

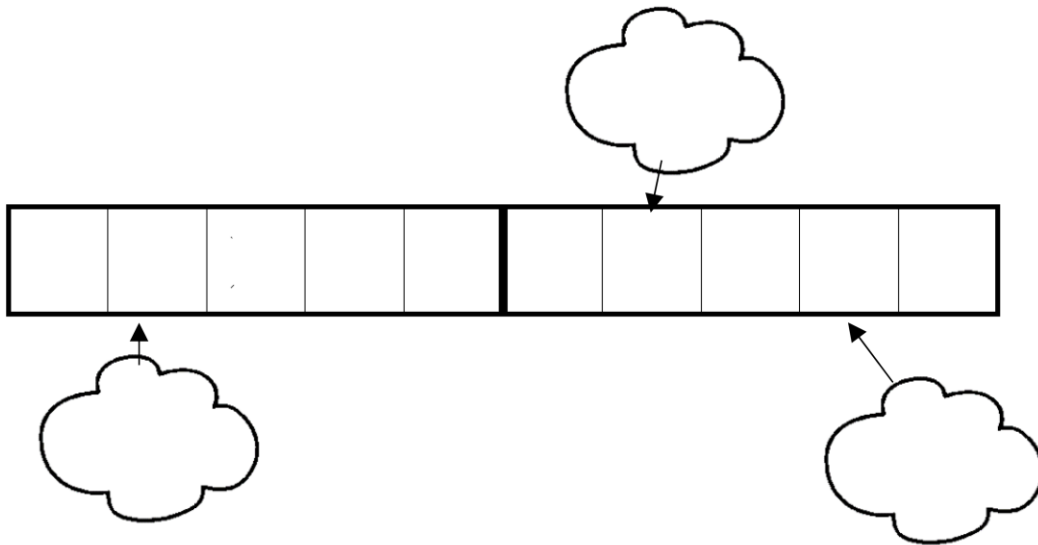
Numération



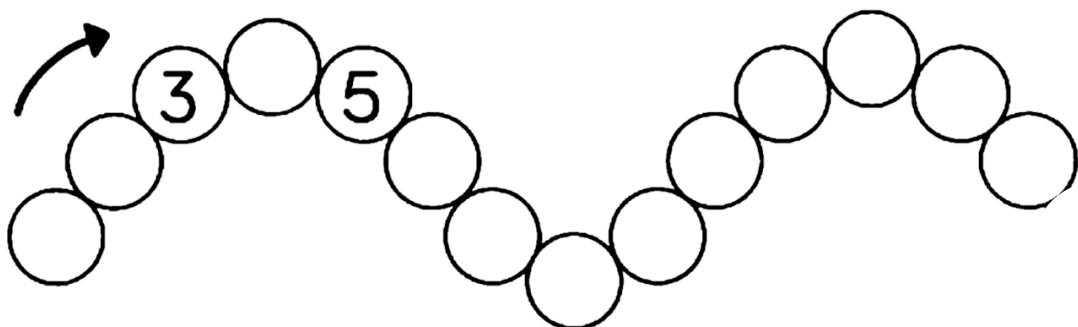
1- Complète les cases de la boîte de dix jetons :




2- Complète les nuages sans écrire les nombres dans les cases de la boîte de dix jetons :



3- Complète le collier de nombres



4- Compte les chapeaux :



5 - Compare :

Colorie le plus grand nombre



Colorie le plus petit nombre



6- Calcule :

$2 + \begin{matrix} \bullet \\ \bullet \bullet \bullet \end{matrix} = \underline{\quad}$

$4 + \begin{matrix} \bullet \\ \bullet \bullet \bullet \end{matrix} = \underline{\quad}$

$6 + \begin{matrix} \bullet \\ \bullet \bullet \end{matrix} = \underline{\quad}$

$3 + \begin{matrix} \bullet \bullet \\ \bullet \bullet \end{matrix} = \underline{\quad}$

7- Barre les erreurs dans ce tableau à double entrée :

Labyrinthe du chat et de la taupe

