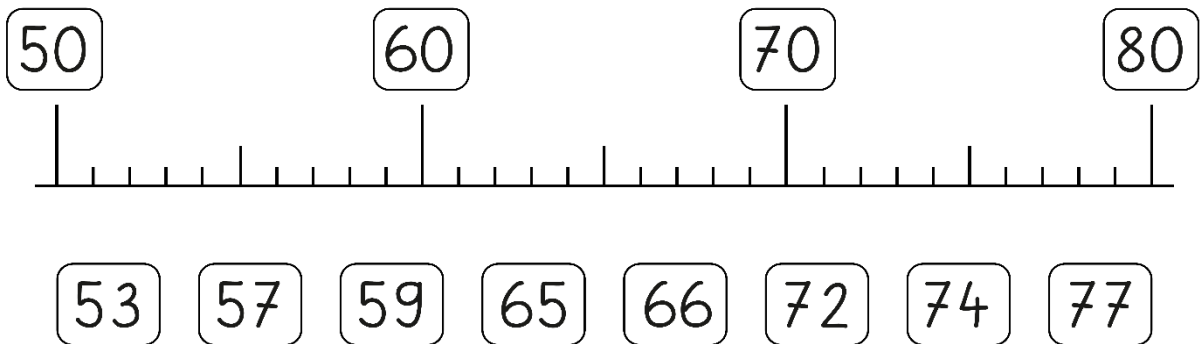


# Numération

17



1 - Relie :



3 - Calcule :



4 - Colorie de la même couleur le nombre et sa moitié :

4	14
7	8
12	6

14	18
5	7
10	9

16	18	
8		
4	9	8

5 - Colorie de la même couleur les nombres de la même famille :

53	42	67	52	40	63	56	65	44	50
69	48	32	47	31	46	37	58	38	55
39	43	60	23	36	33	35	64	61	45

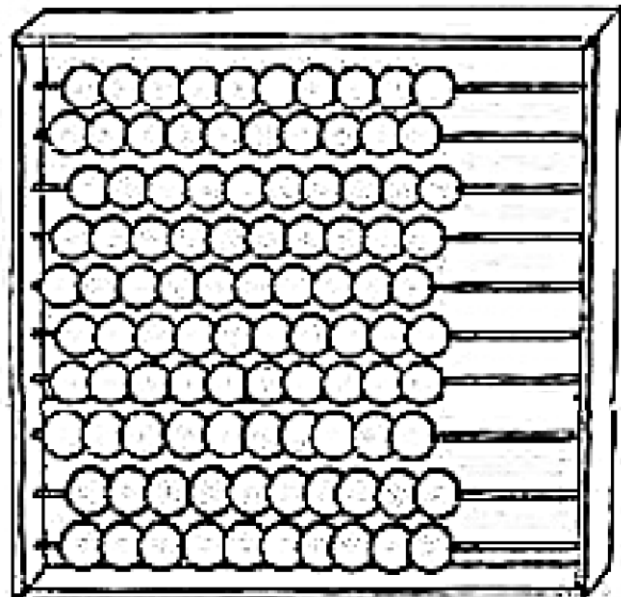
6 - Calcule en t'aidant du boulier si tu le souhaites:

$$10 + 8 = \dots\dots$$

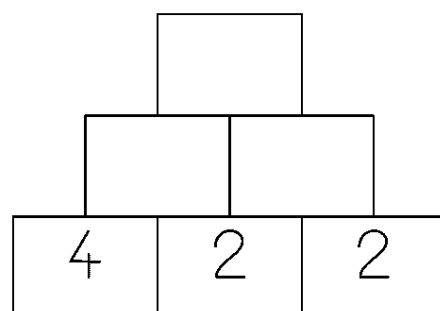
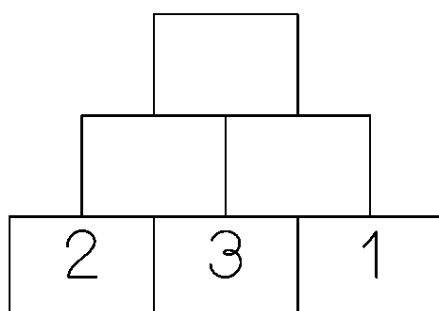
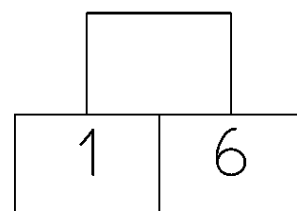
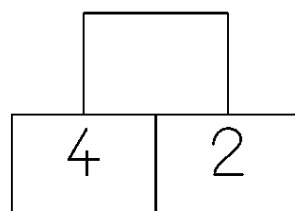
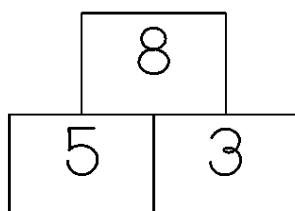
$$10 + 10 + 10 + 10 + 6 = \dots\dots$$

$$9 + 10 + 10 + 10 = \dots\dots$$

$$10 + 10 + 10 + 10 = \dots\dots$$



7 - Calcule en pyramide :



8 - Barre les égalités qui sont fausses

$$8 - 2 = 6$$

$$7 - 3 = 5$$

$$7 - 1 = 5$$

$$5 - 3 = 4$$

$$10 - 3 = 7$$

$$6 - 2 = 8$$

$$5 - 3 = 2$$

$$10 - 5 = 6$$

$$5 - 2 = 3$$

$$8 - 3 = 5$$

$$5 - 3 = 3$$

$$9 - 3 = 6$$

9 - Compte les bananes en faisant des paquets de 10 :



D	U

10 - Complète :

38

D	U

$$30 + \square = \square$$

35

D	U

$$30 + \square = \square$$

39

D	U

$$\square + \square = \square$$

31

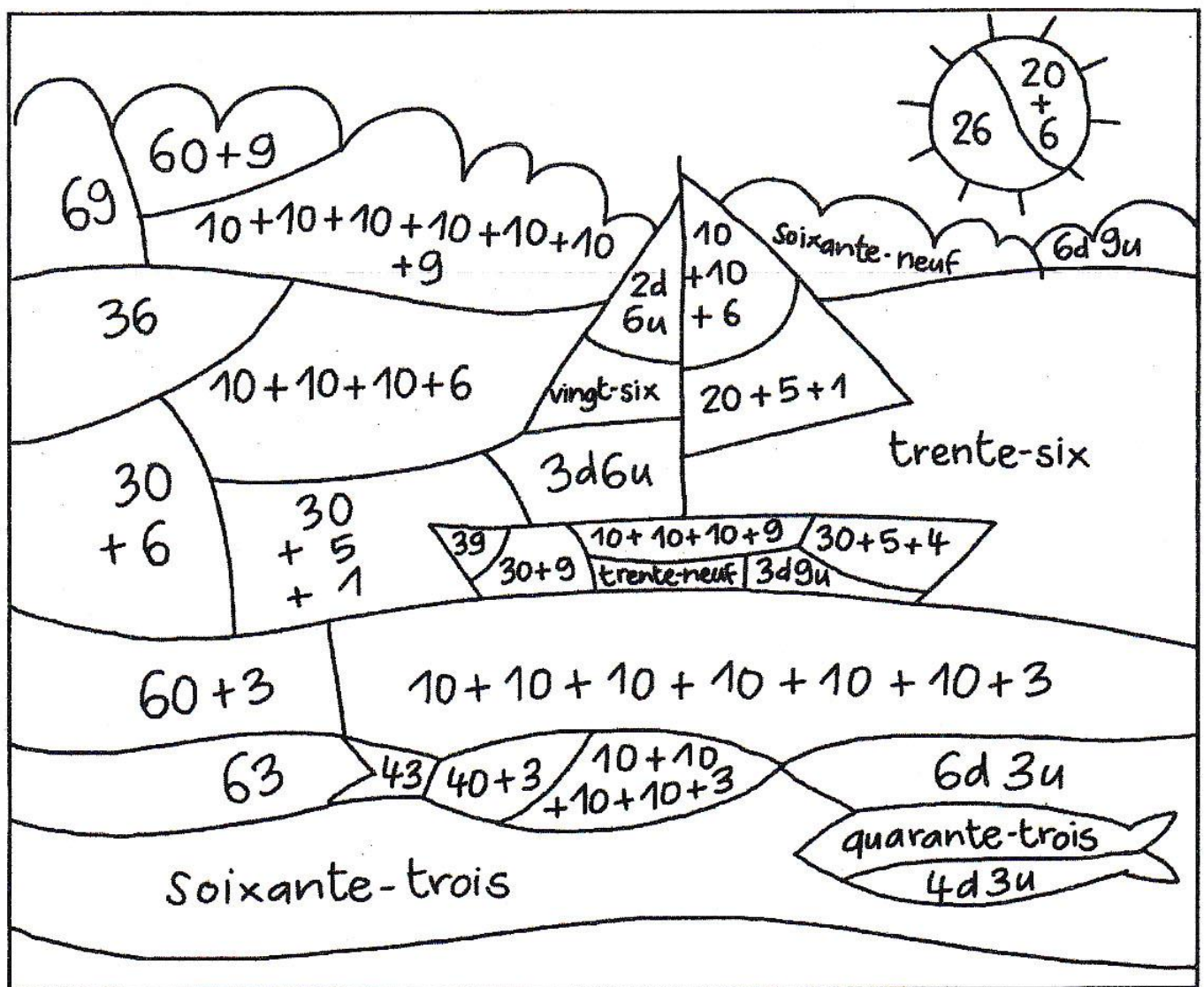
D	U

$$\square + \square = \square$$

# 11 - Colorie :

## Colorie :

- en jaune les zones qui correspondent au nombre 26;
- en vert clair les zones qui correspondent au nombre 36;
- en marron les zones qui correspondent au nombre 39;
- en orange les zones qui correspondent au nombre 43;
- en bleu les zones qui correspondent au nombre 63;
- en vert foncé les zones qui correspondent au nombre 69.





Points à relier :

