

Numération



1 - Relie :

11

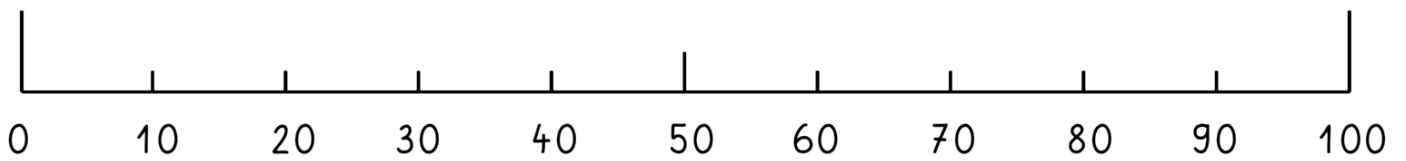
28

42

57

73

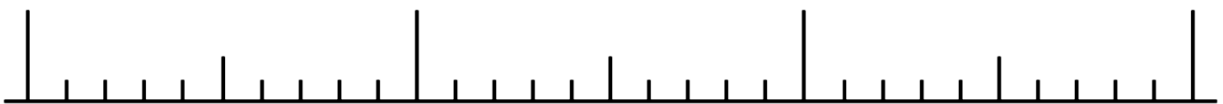
95



2 - Relie :

70

90



61

65

66

72

79

83

86

89

3 - Complète les morceaux du château des nombres

.....	14	33
.....	24	26
.....	51	59

4- Ecris les nombres en chiffres:

dix	cinq	vingt	huit	quinze	cinquante
-----	------	-------	------	--------	-----------

25	vingt-cinq	58
18	15
55	28

5- Barre au fur et à mesure les résultats trouvés : le dernier sera le nombre mystère :

6	8	9	10	11	12	14
15	16	18	20	22	30	

6 + 6 =

5 + 5 =

4 + 4 =

7 + 7 =

9 + 9 =

10 + 10 =

8 + 8 =

11 + 11 =

2 + 2 + 2 =

5 + 5 + 5 =

10 + 10 + 10 =

3 + 3 + 3 =

Le nombre mystère est

6- Complète (pense au château des nombres !) :

8 → +1 → (.....) → +10 → (.....) → +1 → (.....) → +1 → (.....) → +1 → (.....) → +10 → (.....) → +10 → (.....) → +1 → (.....)

7 - Complète :

$6 + 5 = \dots\dots$

$5 - 2 = \dots\dots$

$10 - \dots\dots = 8$

$10 - 2 = \dots\dots$

$7 - 4 = \dots\dots$

$8 - 3 = \dots\dots$

$3 + \dots\dots = 10$

$5 + \dots\dots = 10$

8 - Observe et complète :



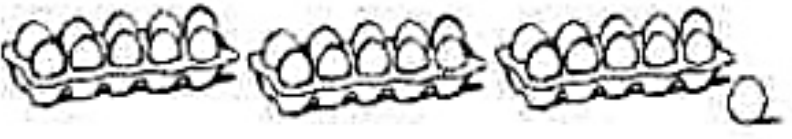
$\blacktriangleright \boxed{30} + \boxed{4} = \boxed{34}$



$\blacktriangleright \boxed{} + \boxed{} = \boxed{}$



$\blacktriangleright \boxed{} + \boxed{} = \boxed{}$



$\blacktriangleright \boxed{} + \boxed{} = \boxed{}$



$\blacktriangleright \boxed{} + \boxed{} = \boxed{}$



$\blacktriangleright \boxed{} + \boxed{} = \boxed{}$



$\blacktriangleright \boxed{} + \boxed{} = \boxed{}$




$\blacktriangleright \boxed{} + \boxed{} = \boxed{}$

9- la monnaie :

Colorie en vert le tambour ainsi les billets et les pièces nécessaires pour l'acheter, en utilisant le moins de pièces et billets possible.

Choisis d'autres couleurs et fais de même pour les autres jouets.













Attention : il y a juste le nombre de billets et de pièces nécessaires !



Logique

Consigne :

Retrouve l'ordre chronologique de réalisation de ce dessin. Écris dans cet ordre les lettres de chaque case pour former un mot qui concerne le ski.

T 	I 	P 
U 	L 	E 
E 	R 	Q 
E 	H 	E 

T											E
----------	--	--	--	--	--	--	--	--	--	--	----------