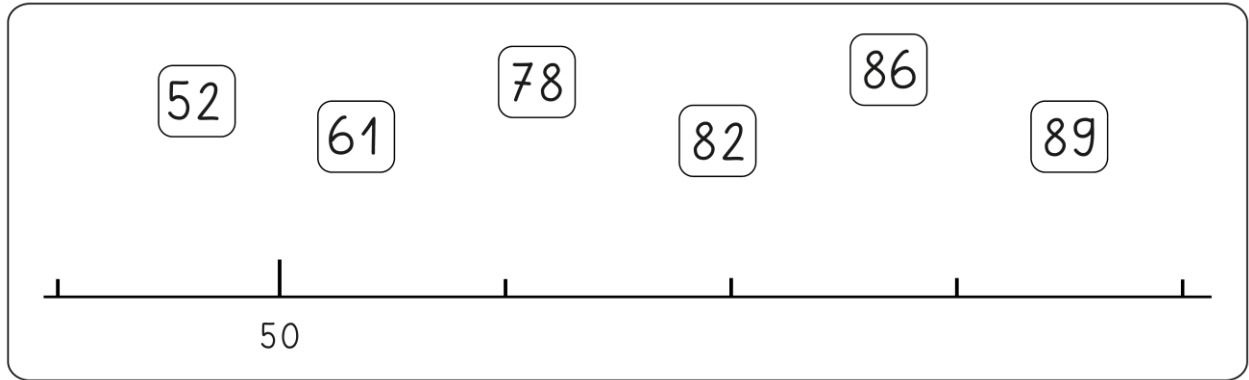


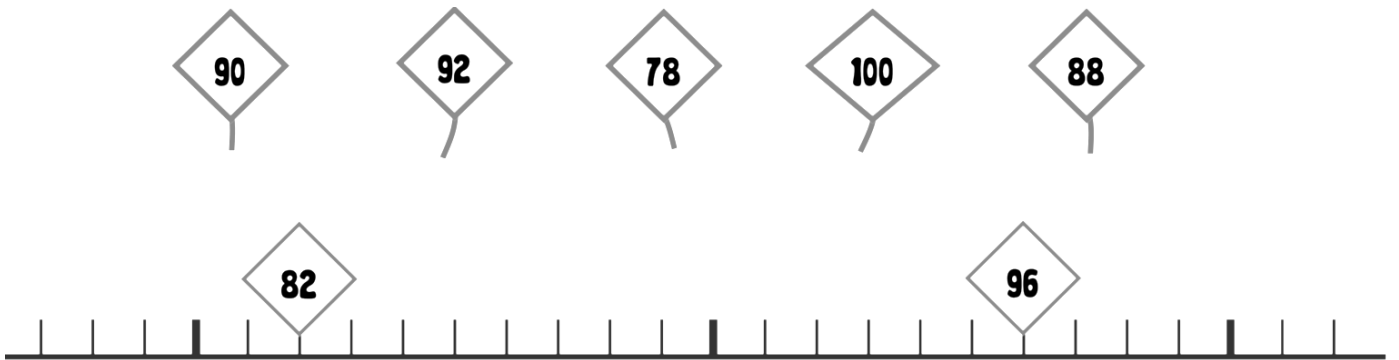
Numération



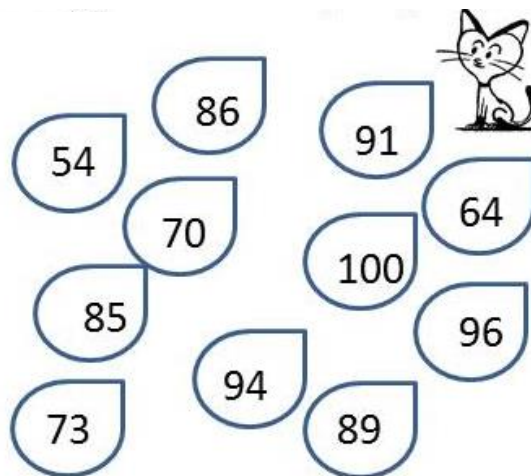
1- Relie :



2- Relie :



3- Colorie les nombres plus grands que 80



Range les dans l'ordre croissant :

85 < < < < < <

4- Lis les nombres puis relie:

81

quatre-vingt-neuf

85

quatre-vingt-un

89

quatre-vingts

84

quatre-vingt-cinq

80

quatre-vingt-quatre

96

quatre-vingt-seize

90

quatre-vingt-dix-sept

99

quatre-vingt-dix

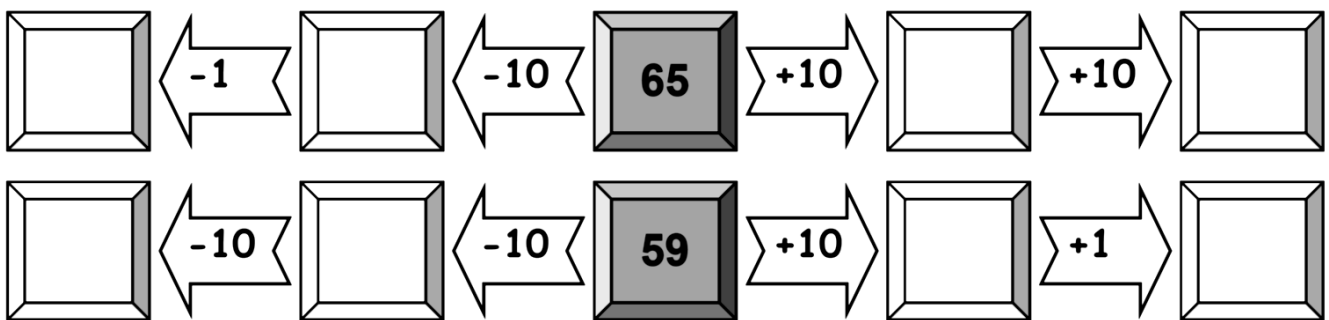
97

quatre-vingt-douze

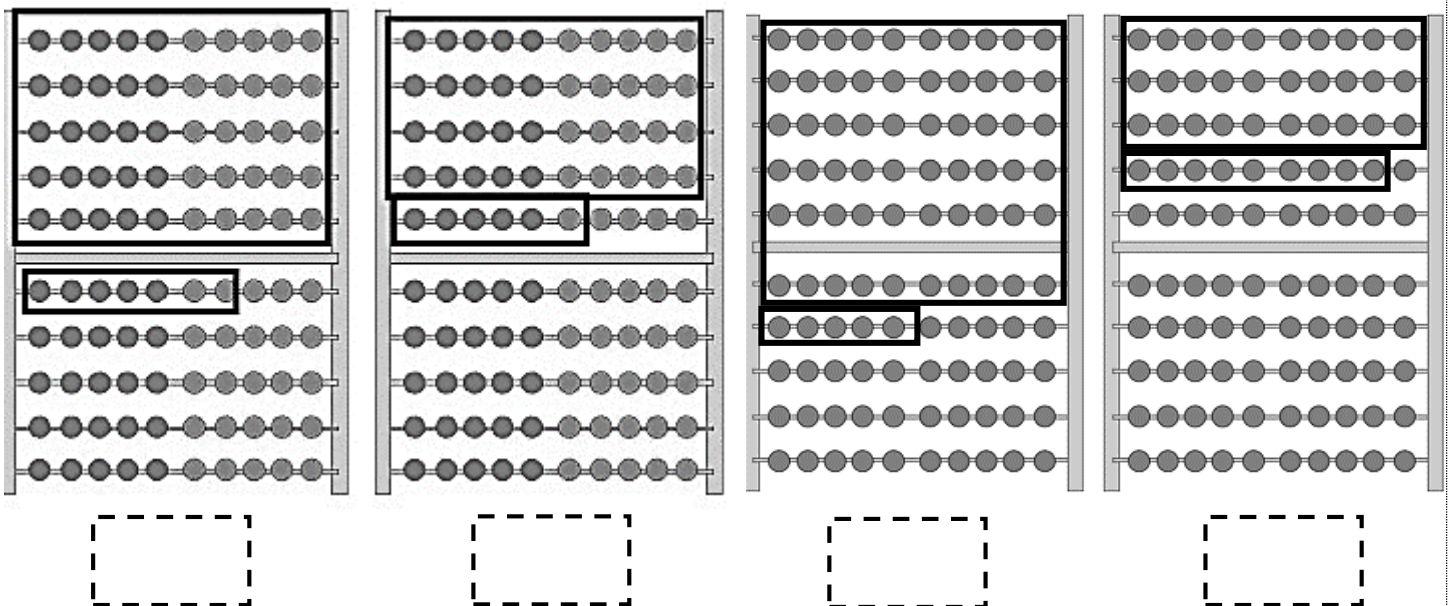
92

quatre-vingt-dix-neuf

6- Pense au château des nombres pour compléter :



7- Combien de perles sont entourées ?



8- Calcule en commençant toujours par les unités (u) et n'oublie pas la retenue ! :

$73 + 18 = \underline{\quad}$

	d	u
	7	3
+	1	8
<hr/>		

$37 + 27 = \underline{\quad}$

	d	u
	3	7
+	2	7
<hr/>		

$55 + 16 = \underline{\quad}$

	d	u
	5	5
+	1	6
<hr/>		

$46 + 36 = \underline{\quad}$

	d	u
	4	6
+	3	6
<hr/>		

$79 + 12 = \underline{\quad}$

	d	u
	7	9
+	1	2
<hr/>		

$35 + 26 = \underline{\quad}$

	d	u
	3	5
+	2	6
<hr/>		

$58 + 15 = \underline{\quad}$

	d	u
	5	8
+	1	5
<hr/>		

$48 + 38 = \underline{\quad}$

	d	u
	4	8
+	3	8
<hr/>		

$47 + 13 + 34 = \underline{\quad}$

	d	u
	4	7
+	1	3
+	3	4
<hr/>		

$32 + 25 + 7 = \underline{\quad}$

	d	u
	3	2
+	2	5
+		7
<hr/>		

$44 + 6 + 13 = \underline{\quad}$

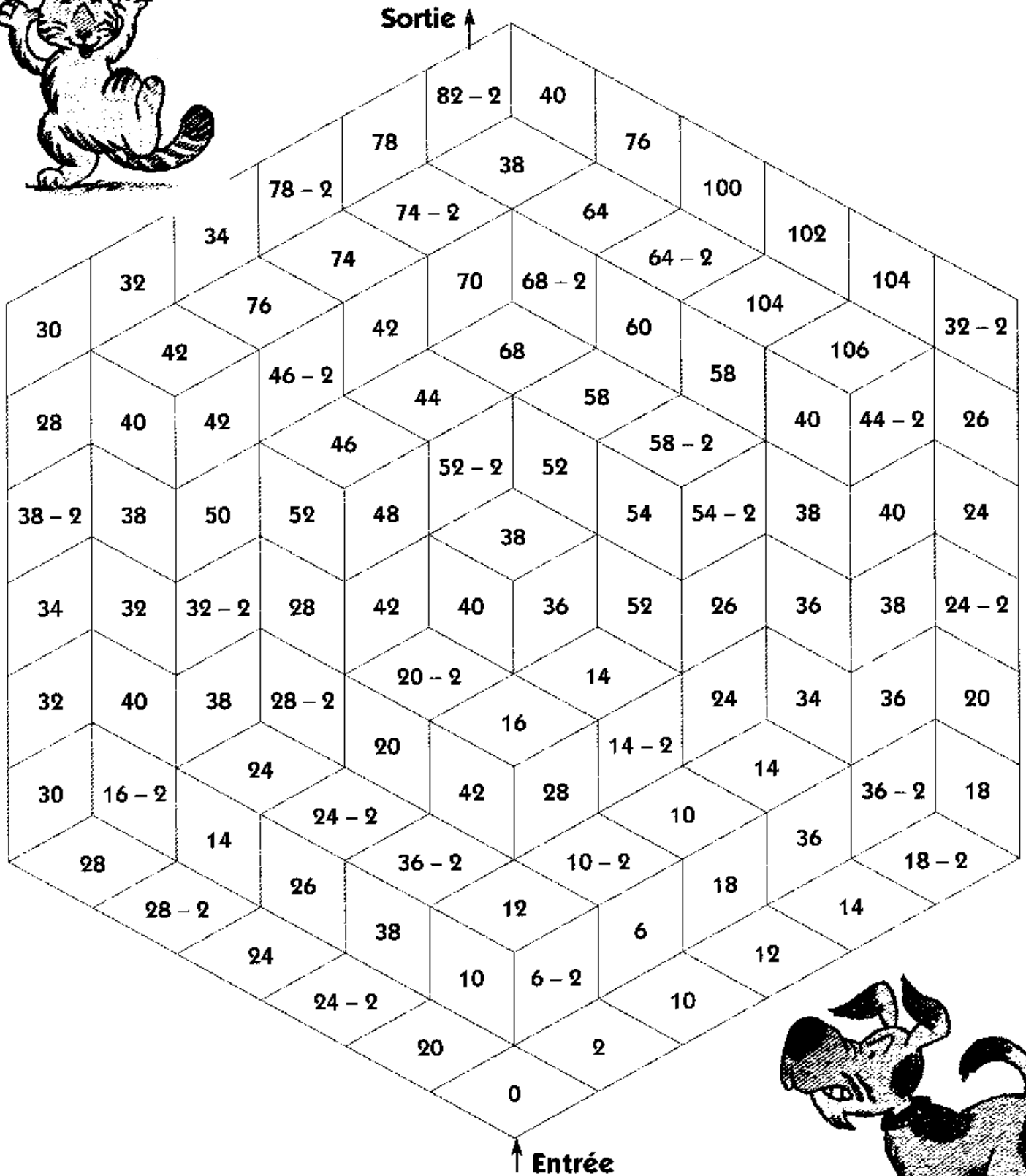
	d	u
	4	4
+		6
+	1	3
<hr/>		

$52 + 5 + 25 = \underline{\quad}$

	d	u
	5	2
+		5
+	2	5
<hr/>		

9- Coloriage magique

Trace le chemin en comptant de 2 en 2.



Logique

