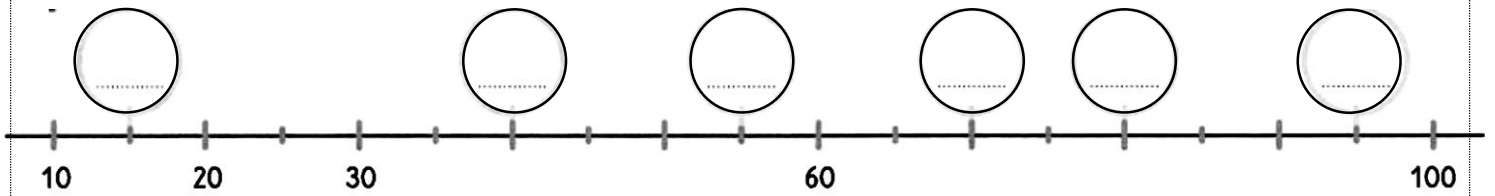


# Numération

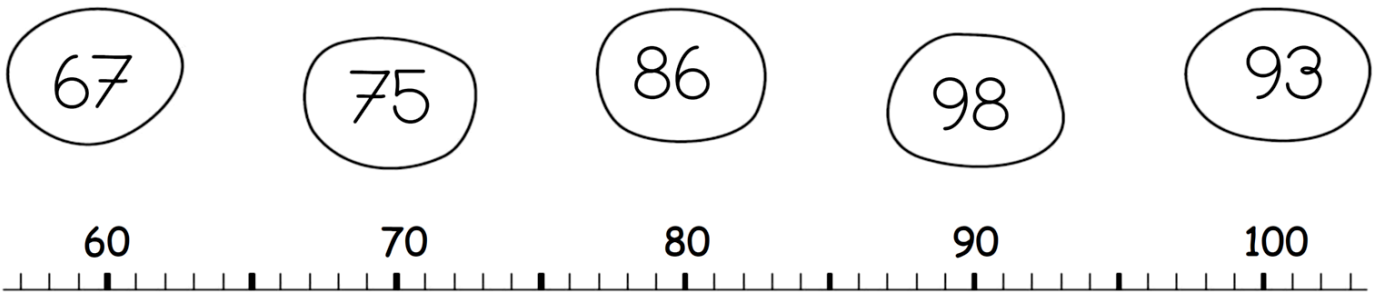
29



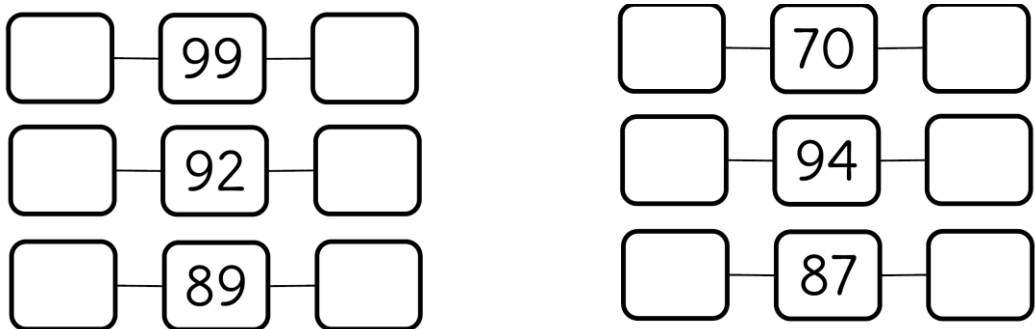
1- Ecris le nombre qui convient dans les étiquettes :



2-Relie :



3-Ecris les nombres qui viennent avant et après :



4- Range ces mêmes nombres du plus grand au plus petit :

99 92 89 70 94 87

99 > ..... > ..... > ..... > ..... > .....

5- Ecris le signe > ou <

8 < 15	54 ..... 58	75 ..... 57
20 > 14	67 ..... 66	70 ..... 60
36 ..... 39	90 ..... 87	78 ..... 80
47 ..... 43	88 ..... 89	59 ..... 95


6-Colorie d'une même écriture les différentes écritures d'un même nombre :

93	quatre-vingt-seize	90 + 3
quatre-vingt-trois	80 + 13	9 dizaines et 6 unités
9 dizaines et 3 unités	90 + 6	83
quatre-vingt-treize	96	80 + 3

7-Calculer

57 + 10 = .....	89 + 10 = .....	64 + 10 = .....	80 + 10 = .....
77 - 10 = .....	56 - 10 = .....	97 - 10 = .....	70 - 10 = .....
49 + 1 = .....	69 + 1 = .....	89 + 1 = .....	59 + 1 = .....
70 - 1 = .....	90 - 1 = .....	80 - 1 = .....	75 - 1 = .....

8- Barre les écritures qui ne correspondent pas aux schémas :



$80+1$

$8d\ 1u$

quatre-vingt-onze

$20+20+20+20+1$

~~81~~

$20+20+20+1$


quatre-vingt-un

$60+11$

1d 8u

$10+10+10+10+10+10+10+10+1$

81



$10+10+10+10+10+10+10+10+10+6$

$80+16$

$90+6$

$80+6$

quatre-vingt-six

$8d\ 6u$

96

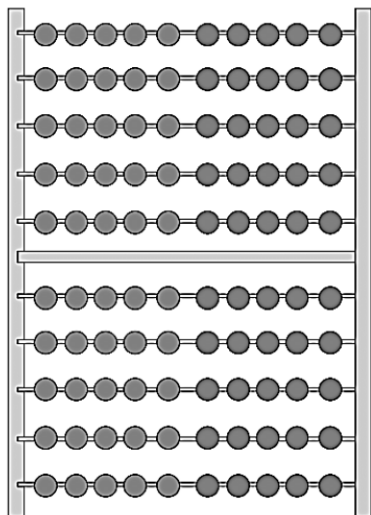
86

$9d\ 6u$

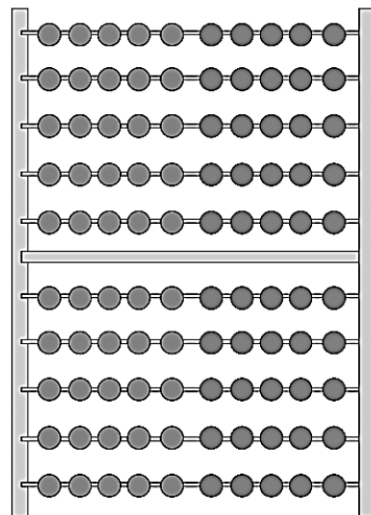
quatre-vingt-seize

9- Entoure les perles demandées :

59



95



..... = .....

..... = .....

10- Place les nombres en colonne et calcule en commençant toujours par les unités ( u ) et n'oublie pas la retenue !

38 + 43 = \_\_\_\_\_

	d	u
	○	
+		

47 + 14 = \_\_\_\_\_

	d	u
	○	
+		

43 + 37 = \_\_\_\_\_

	d	u
	○	
+		

45 + 35 = \_\_\_\_\_

	d	u
	○	
+		

39 + 41 = \_\_\_\_\_

	d	u
	○	
+		

58 + 24 = \_\_\_\_\_

	d	u
	○	
+		

73 + 17 = \_\_\_\_\_

	d	u
	○	
+		

42 + 39 = \_\_\_\_\_

	d	u
	○	
+		

52+5+13= \_\_\_\_\_

	d	u
	○	
+		
+		

34+15+3= \_\_\_\_\_

	d	u
	○	
+		
+		

28+53+13= \_\_\_\_\_

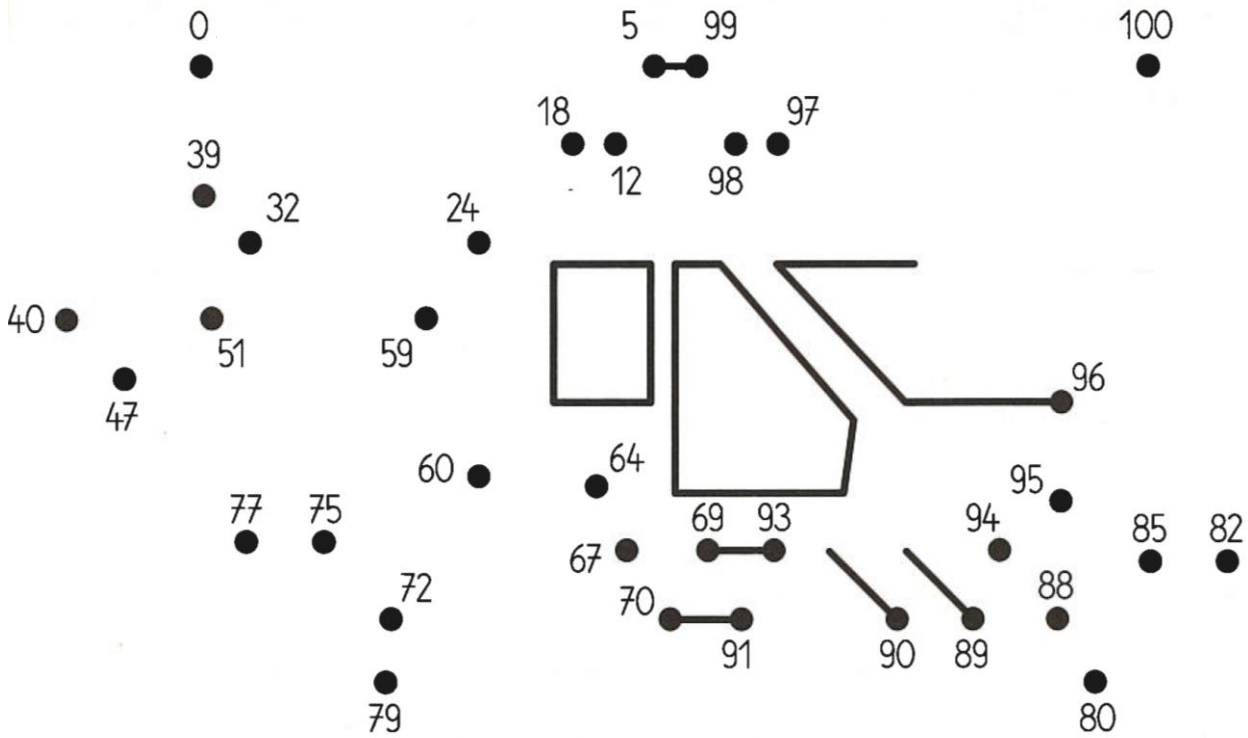
	d	u
	○	
+		
+		

20+19+14= \_\_\_\_\_


	d	u
	○	
+		
+		

8- problèmes :

-Relie les nombres dans l'ordre croissant :



-C'est l'anniversaire du grand-père de Rita : trouve son âge sachant qu'une grande bougie représente 10 ans et que chaque petite bougie représente un an :



Le grand-père de Rita a ..... ans.

## Le portrait

Retrouve Sandra. Elle a des cheveux longs, foncés, bouclés, de grands yeux, une petite bouche et elle ne porte pas de lunettes ! Entoure le portrait qui correspond à cette description.

