

Numération



1 - Complète les suites numériques :

1 | Ecris les nombres qui suivent:

7 _____
3 _____
12 _____

2 | Ecris les nombres qui précèdent:

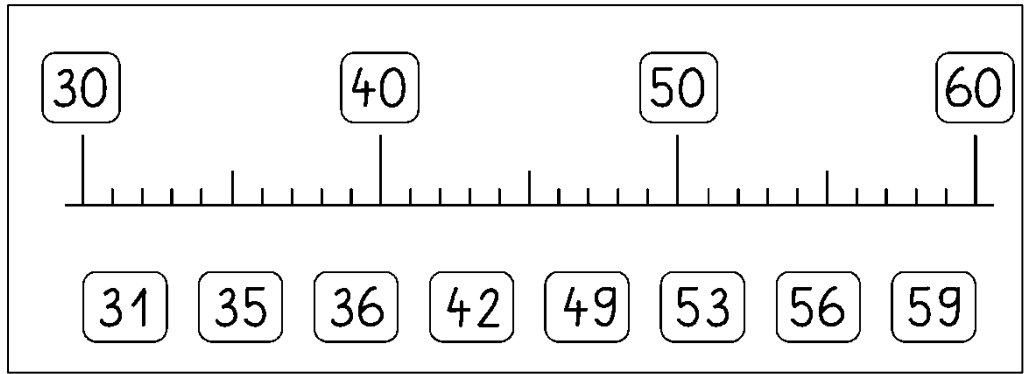
_____ 10
_____ 17
_____ 24

3 | Ecris les nombres qui suivent et qui précèdent:


_____ 12 _____
_____ 34 _____
_____ 56 _____

4 | Ecris les nombres à partir de

2 - Relie :




3 - Range dans l'ordre décroissant :



4 - Complète : < > =

47 ___ 67	56 ___ 46	59 ___ 69
68 ___ 59	62 ___ 64	65 ___ 66

5 - Entoure pour faire des paquets de 10 et complète le tableau :



Il y a ballons.

D	U

7 - Barre les fausses égalités :

$2 + 2 = 4$

$4 + 4 = 8$

$3 + 3 = 6$

$5 + 5 = 9$

$2 + 2 = 5$


$1 + 1 = 2$

$3 + 3 = 5$

$4 + 4 = 10$

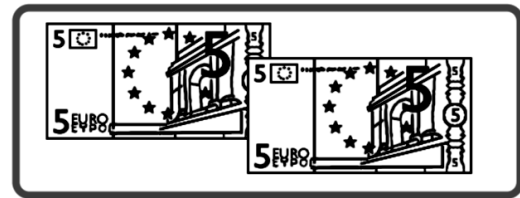
$5 + 5 = 10$

8 - Ecris la somme contenue dans chaque paquet :

 €

 €

 €

 €

9 - Lis les nombres et écris :

treize

neuf

dix-sept

quinze

douze

seize

dix-neuf

onze

dix-huit

quatorze

quarante-deux

trente-quatre

vingt-et-un

cinquante-sept

cinquante

10 - Calcule :

$9 - 5 = \dots$

$9 - 4 = \dots$

$5 - 5 = \dots$

$7 - 1 = \dots$

$3 - 2 = \dots$

$8 - 4 = \dots$

$9 - 7 = \dots$

$10 - 7 = \dots$

$10 - 8 = \dots$

$6 - 2 = \dots$

$4 - 0 = \dots$

$6 - 3 = \dots$

11 - Relie :

vingt ○

○ 30 unités ○

○ 2 dizaines

cinquante ○

○ 40 unités ○

○ 5 dizaines

trente ○

○ 20 unités ○

○ 6 dizaines

soixante ○

○ 60 unités ○

○ 3 dizaines

quarante ○

○ 50 unités ○

○ 4 dizaines

12 - Colorie selon le code :


16 marron

15 orange

14 bleu

13 vert

12 jaune



Points à relier

