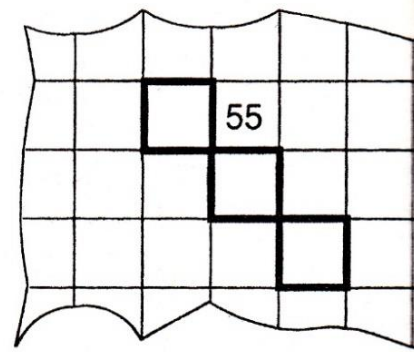
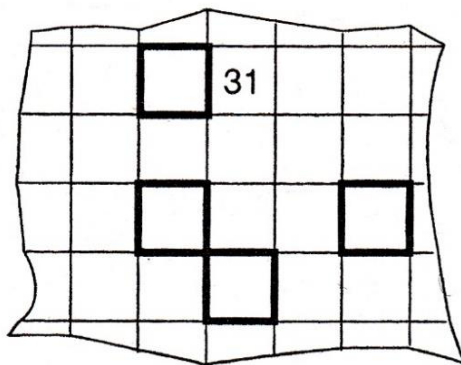
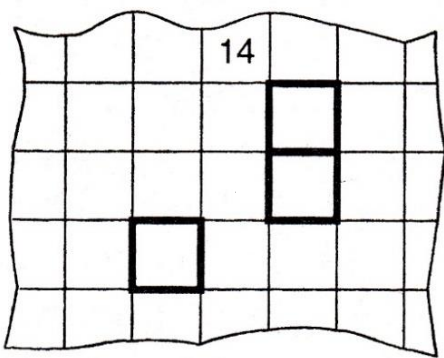


4- Pense au château de nombres :



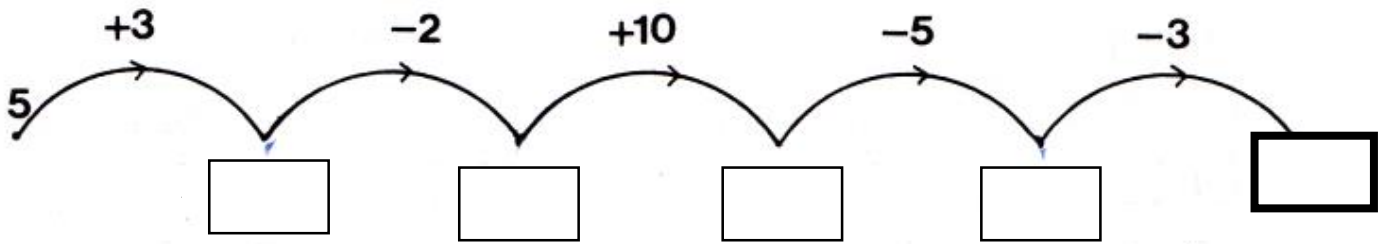
5- Relie les différentes écritures d'un même nombre :

dix-neuf	57	10 + 9
trente-deux	32	24 + 24
cinquante-sept	23	20 + 1
vingt-et-un	19	50 + 7
quarante-huit	16	20 + 3
seize	21	10 + 1
vingt-trois	11	8 + 8
onze	48	16 + 16

6- Top chrono ! Calcule les doubles le plus vite possible : ...

3 + 3 =	5 + 5 =	9 + 9 =	6 + 6 =
7 + 7 =	2 + 2 =	3 + 3 =	8 + 8 =
6 + 6 =	8 + 8 =	0 + 0 =	2 + 2 =
1 + 1 =	4 + 4 =	7 + 7 =	5 + 5 =

7- Complète :




8- Complète :

25	vingt-cinq	10 + 10 + 5
		10 + 10 + 10 + 6
41		
57		
		10 + 10 + 10 + 10 + 10 + 9

9- Calcule :

vingt + trente = ...50...	vingt + dix =
quarante + vingt =	dix + trente =
vingt + cinquante =	trente + trente =
dix + soixante =	quarante + quarante =
cinquante + trente =	dix + quarante =
quarante + trente =	vingt + quarante =

Logique



Continue la suite des nombres pairs et décode le message pour trouver le trésor.

28	30
L	E

32	34	36	38
....

44
....

....	52
....	O

....
L

....	64
B	C

Indique par une flèche où se trouve le trésor.

