

# Numération maison


12

A- pour mardi :

1. 🧵 Je lis les nombres
2. ? Je dis le nombre qui vient avant
3. ? Je dis le nombre qui vient après
4. ✍ Je range les nombres du plus petit au plus grand

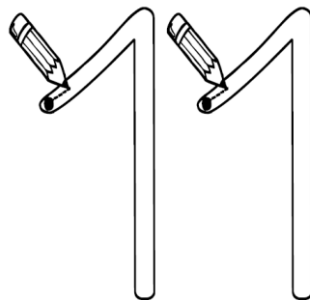
13 – 37 – 25 – 11 - 39

B- pour jeudi : colorie le quatorzième bouton.



C- pour vendredi : épelle les lettres du mot **11** puis repasse le chiffre avec ton doigt.

onze – onze



# Numération maison


12

A- pour mardi :

1. 🧵 Je lis les nombres
2. ? Je dis le nombre qui vient avant
3. ? Je dis le nombre qui vient après
4. ✍ Je range les nombres du plus petit au plus grand

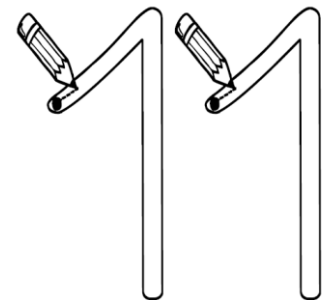
13 – 37 – 25 – 11 - 39

B- pour jeudi : colorie le quatorzième bouton.



C- pour vendredi : épelle les lettres du mot **11** puis repasse le chiffre avec ton doigt.

onze – onze



# Numération maison


13

A- pour mardi :

1. 📖 Je lis les nombres
2. ? Je dis le nombre qui vient avant
3. ? Je dis le nombre qui vient après
4. ✍ Je range les nombres du plus petit au plus grand

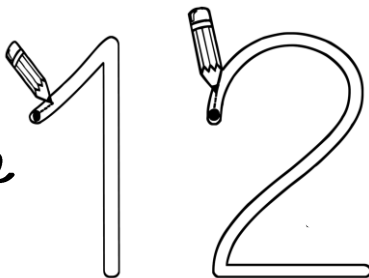
18 – 21 – 34 – 15 - 13

B- pour jeudi : colorie la quinzième pièce.



C- pour vendredi : épelle les lettres du mot **12** puis repasse le chiffre avec ton doigt.

douze – douze



# Numération maison


13

A- pour mardi :

1. 📖 Je lis les nombres
2. ? Je dis le nombre qui vient avant
3. ? Je dis le nombre qui vient après
4. ✍ Je range les nombres du plus petit au plus grand

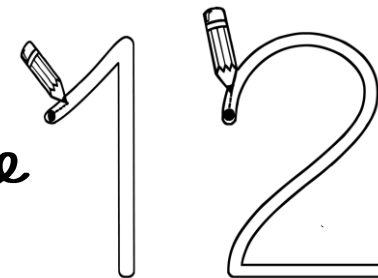
18 – 21 – 34 – 15 - 13

B- pour jeudi : colorie la quinzième pièce.



C- pour vendredi : épelle les lettres du mot **12** puis repasse le chiffre avec ton doigt.

douze – douze



# Numération maison

14

A- pour mardi : calcul mental :

$5+2$


$6+1$

$1+7$

$5+5$

$2+2$

B- pour jeudi : réfléchis : Il devrait y avoir 9 escargots sur l'image. Combien sont cachés derrière les cailloux ?



C- pour vendredi : épelle les lettres du mot **13** puis repasse le chiffre avec ton doigt.

treize - treize



# Numération maison

14

A- pour mardi : calcul mental :

$5+2$


$6+1$

$1+7$

$5+5$

$2+2$

B- pour jeudi : réfléchis : Il devrait y avoir 9 escargots sur l'image. Combien sont cachés derrière les cailloux ?



C- pour vendredi : épelle les lettres du mot **13** puis repasse le chiffre avec ton doigt.

treize - treize



# Numération maison

15

A- pour mardi : calcul mental :

$3+1$


$6-1$

$1+0$

$3+3$


$2+8$

B- pour jeudi : réfléchis : Sépare ce groupe de souris en deux équipes égales. Combien y aura-t-il de souris dans chaque groupe ?



C- pour vendredi : épelle les lettres du mot **14** puis repasse le chiffre avec ton doigt.

quatorze - quatorze



# Numération maison

15

B- pour mardi : calcul mental :

$3+1$


$6-1$

$1+0$

$3+3$

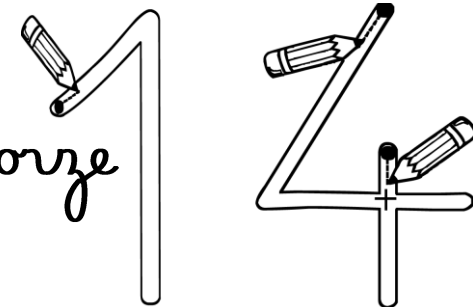
$2+8$

B- pour jeudi : réfléchis : Sépare ce groupe de souris en deux équipes égales. Combien y aura-t-il de souris dans chaque groupe ?



C- pour vendredi : épelle les lettres du mot **14** puis repasse le chiffre avec ton doigt.

quatorze - quatorze



# Numération maison

16

A- pour mardi : calcul mental :


$2+5+5$

$5-2$

$4+1+6$

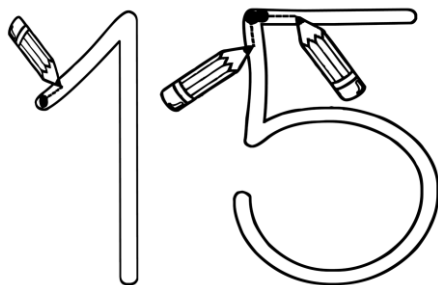
$3+3$

B- pour jeudi : réfléchis : En jouant dans la neige, Noah a préparé 14 boules. Complète le dessin



C- pour vendredi : épelle les lettres du mot **15** puis repasse le chiffre avec ton doigt.

quinze - quinze



# Numération maison

16

A- pour mardi : calcul mental :


$2+5+5$

$5-2$

$4+1+6$

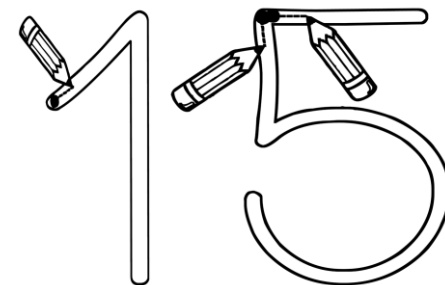
$3+3$

B- pour jeudi : réfléchis : En jouant dans la neige, Noah a préparé 14 boules. Complète le dessin



C- pour vendredi : épelle les lettres du mot **15** puis repasse le chiffre avec ton doigt.

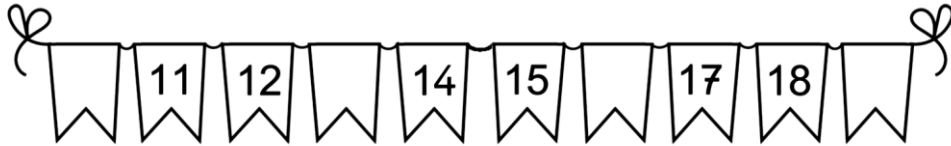
quinze - quinze



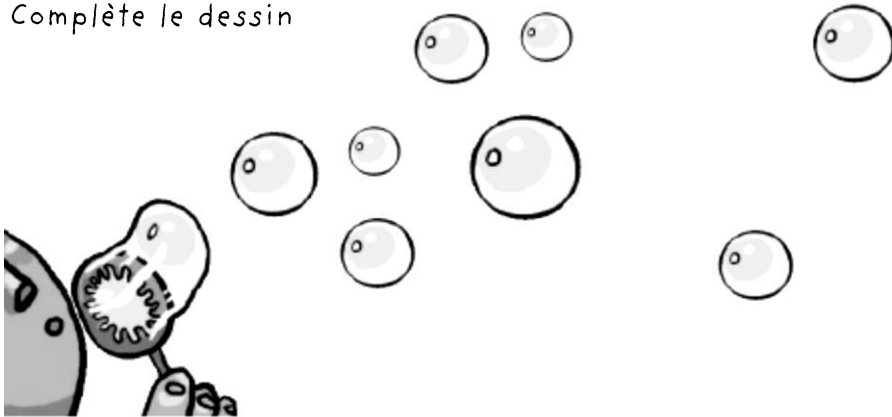
# Numération maison

17

A- pour mardi : complète :



B- pour jeudi : réfléchis : Paul avait fait 20 bulles.  
Complète le dessin



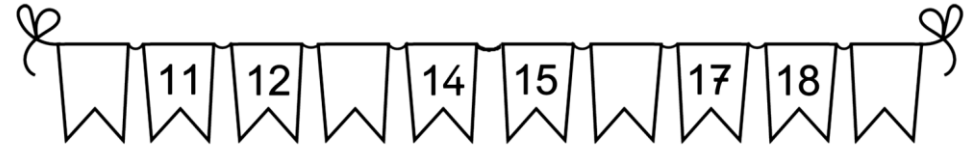
C- pour vendredi : épelle les lettres du mot **16** puis repasse le chiffre avec ton doigt.



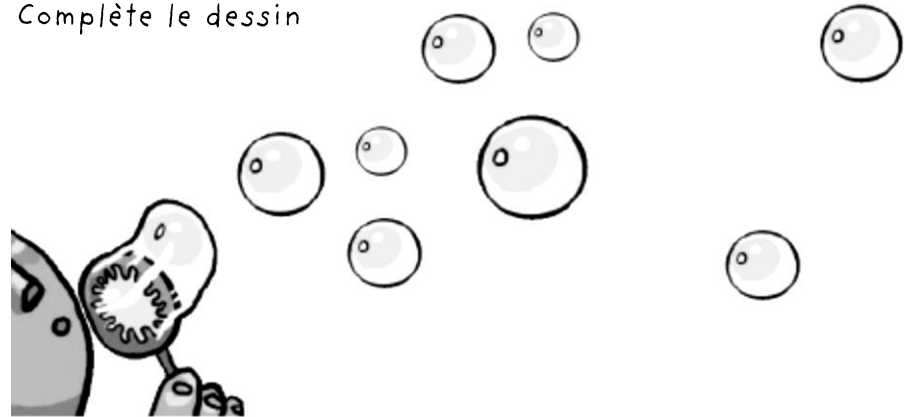
# Numération maison

17

A- pour mardi : complète :



B- pour jeudi : réfléchis : Paul avait fait 20 bulles.  
Complète le dessin



C- pour vendredi : épelle les lettres du mot **16** puis repasse le chiffre avec ton doigt.



# Numération maison

18

A- pour mardi : entoure le plus grand:

21 29

15 25

12 21

19 20

27 17

28 23

12 11


23 13

B- pour jeudi : réfléchis : Paul a gagné 13 billes.  
Complète le dessin



C- pour vendredi : épelle les lettres du mot 17 puis  
repassse le chiffre avec ton doigt

dix-sept - dix-sept



# Numération maison

18

A- pour mardi : entoure le plus grand:

21 29

15 25

12 21

19 20

27 17

28 23

12 11


23 13

B- pour jeudi : réfléchis : Paul a gagné 13 billes.  
Complète le dessin



C- pour vendredi : épelle les lettres du mot 17 puis  
repassse le chiffre avec ton doigt.

dix-sept - dix-sept



# Numération maison

19

A- pour mardi : calcul mental :

$6+6$


$7+7$

$8+8$

$9+9$

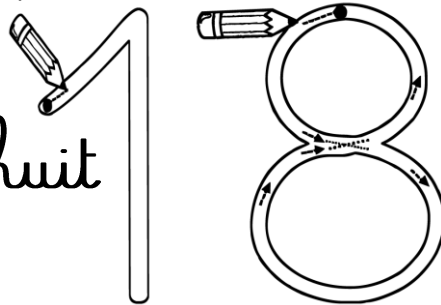
$10+10$

B- pour jeudi : réfléchis : IL y a 19 poissons dans l'aquarium. Complète pour savoir combien il en manque ?



C- pour vendredi : épelle les lettres du mot **18** puis repasse le chiffre avec ton doigt.

dix-huit - dix-huit



# Numération maison

19

A- pour mardi : calcul mental :

$6+6$


$7+7$

$8+8$

$9+9$

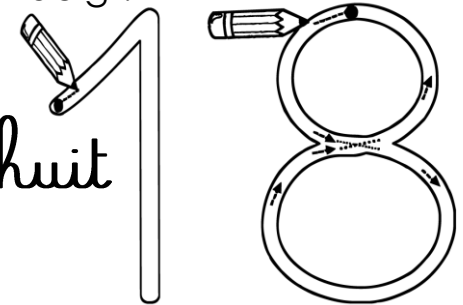
$10+10$

B- pour jeudi : réfléchis : IL y a 19 poissons dans l'aquarium. Complète pour savoir combien il en manque ?



C- pour vendredi : épelle les lettres du mot **18** puis repasse le chiffre avec ton doigt.

dix-huit - dix-huit





# Numération maison

20

A- pour mardi : > ou < ?

|    |    |    |    |    |    |    |    |
|----|----|----|----|----|----|----|----|
| 6  | 4  | 35 | 37 | 56 | 51 | 47 | 46 |
| 52 | 25 | 75 | 57 | 51 | 31 | 71 | 17 |

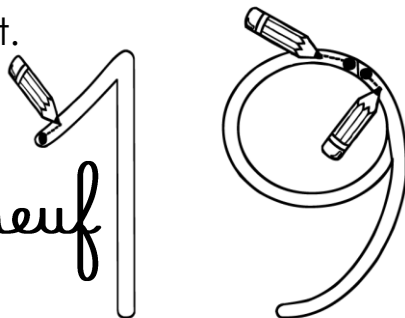
B- pour jeudi : réfléchis :

Léa a 9 billes. Milo lui donne 6 billes. Combien Léa a-t-elle de billes ?

Dessine :

Réponse :

C- pour vendredi : épelle les lettres du mot **19** puis repasse le chiffre avec ton doigt.



dix-neuf- dix-neuf

# Numération maison

20

A- pour mardi : > ou < ?

|    |    |    |    |    |    |    |    |
|----|----|----|----|----|----|----|----|
| 6  | 4  | 35 | 37 | 56 | 51 | 47 | 46 |
| 52 | 25 | 75 | 57 | 51 | 31 | 71 | 17 |


B- pour jeudi : réfléchis :

Léa a 9 billes. Milo lui donne 6 billes. Combien Léa a-t-elle de billes ?

Dessine :

Réponse :

C- pour vendredi : épelle les lettres du mot **19** puis repasse le chiffre avec ton doigt.



dix-neuf- dix-neuf

# Numération maison

21


A- pour mardi : calcul mental :

$4+3+6$

$1+9+5$

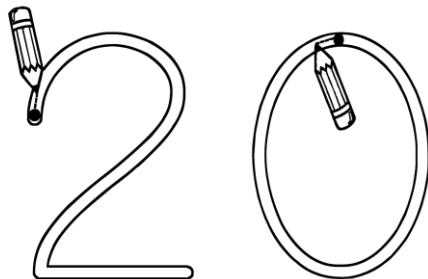
$7+3+4$

B- pour jeudi : réfléchis : ce bracelet est fait de quatre couleurs qui s'alternent. Combien faudra-t-il de perles de chaque couleur ?



C- pour vendredi : épelle les lettres du mot **20** puis repasse le chiffre avec ton doigt.

vingt - vingt



# Numération maison

21


A- pour mardi : calcul mental :

$4+3+6$

$1+9+5$

$7+3+4$

B- pour jeudi : réfléchis : ce bracelet est fait de quatre couleurs qui s'alternent. Combien faudra-t-il de perles de chaque couleur ?



C- pour vendredi : épelle les lettres du mot **20** puis repasse le chiffre avec ton doigt.

vingt - vingt

