

Numération

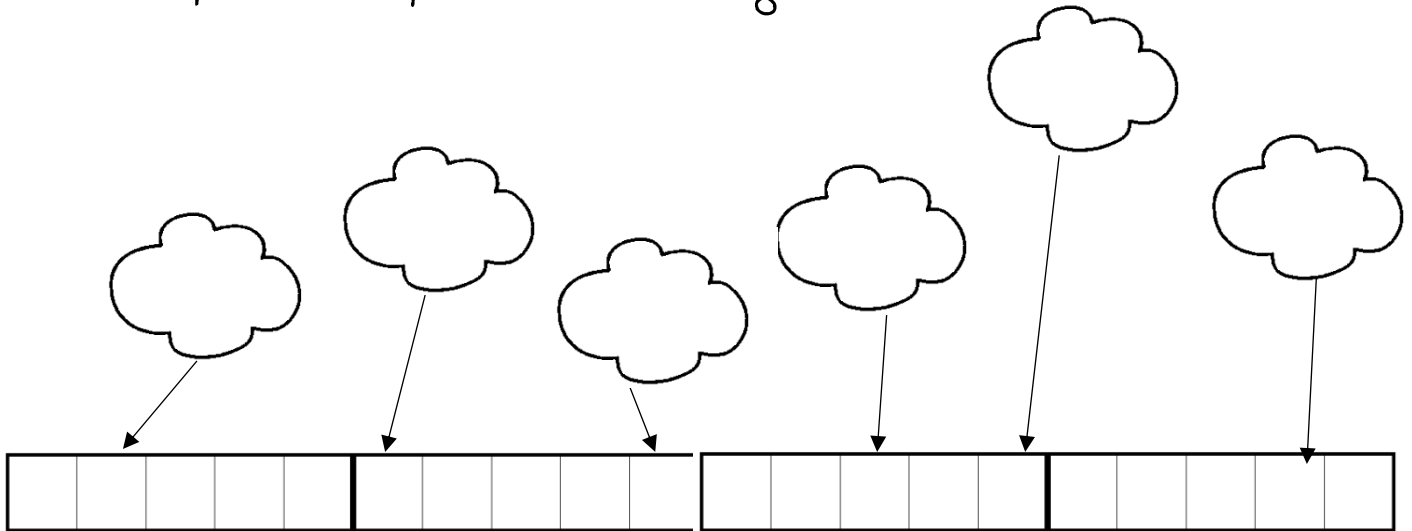


1- N'écris que les nombres suivants dans les cases:

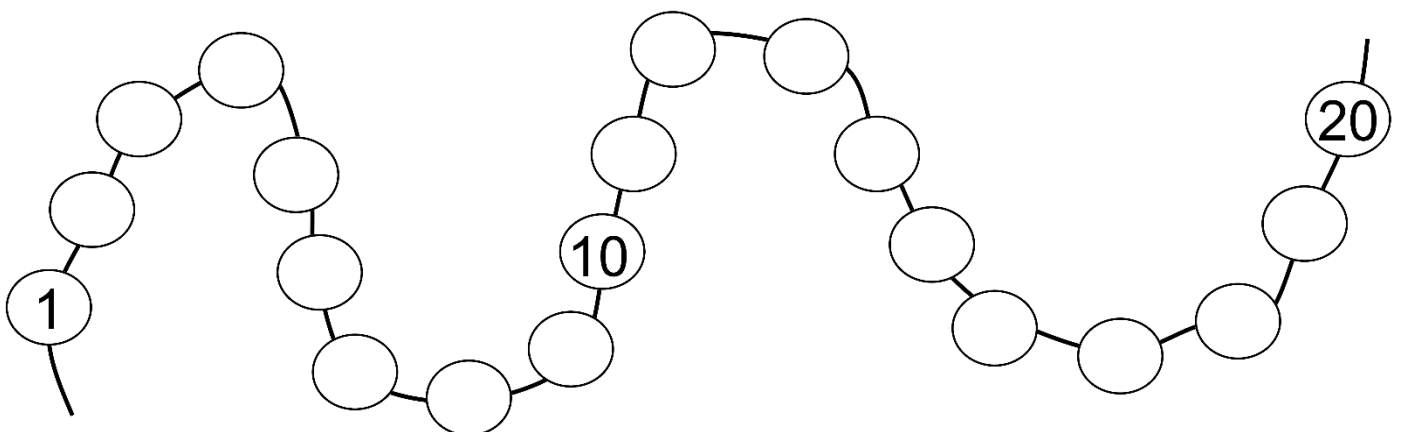

3 - 8 - 1 - 12 - 19 - 5 - 16

--	--	--	--	--	--	--	--	--	--	--	--	--	--	--	--	--	--	--	--

2- Complète uniquement les nuages :



3- Place les nombres au bon endroit :



4 - Complète les fragments de bandes numériques:



11		13			
----	--	----	--	--	--

	10			13
--	----	--	--	----

14			17	18
----	--	--	----	----

		15		
--	--	----	--	--

5 - Ecris le nombre d'étoiles dans les étiquettes:



6 - Ordre croissant:

12	8	19	17	13	7	15				
.....	10	14	16	20

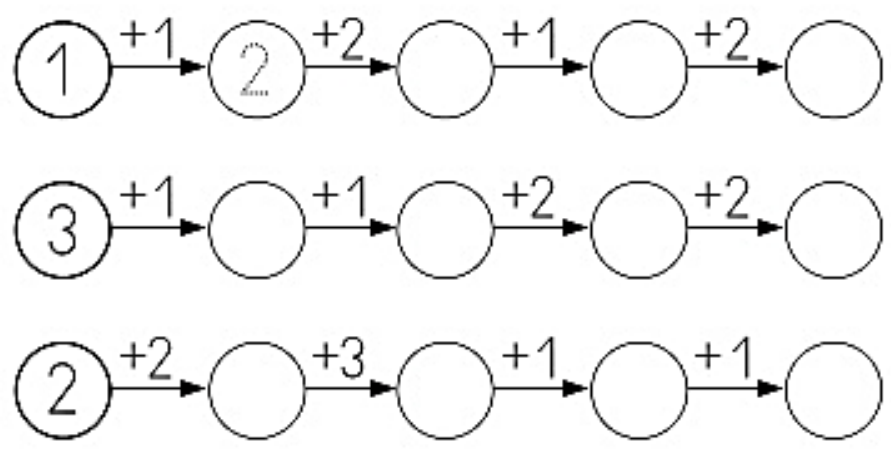
Ordre décroissant:

10	12	8	16	14	11	6	19
19	16

6- Ecris en lettres :

3	2
7	5
1	9
8	4
0	6

7 - Calcule



8 - Calcule et colorie de la même couleur les opérations jumelles :

 $4 + 3 = 7$  $3 + 4 = 7$

$4 + 1 =$	$6 + 1 =$
$3 + 2 =$	$4 + 2 =$
$2 + 4 =$	$1 + 4 =$
$1 + 6 =$	$2 + 3 =$

$8 + 2 =$	$6 + 4 =$
$2 + 5 =$	$2 + 8 =$
$5 + 3 =$	$5 + 2 =$
$4 + 6 =$	$3 + 5 =$

9 - Calcule :

$4 + 3 + 1 = \dots\dots\dots$

$2 + 2 + 2 = \dots\dots\dots$

$3 + 3 + 1 = \dots$

$5 + 3 + 1 = \dots\dots\dots$

$3 + 2 + 1 = \dots\dots\dots$

$3 + 3 + 3 = \dots$

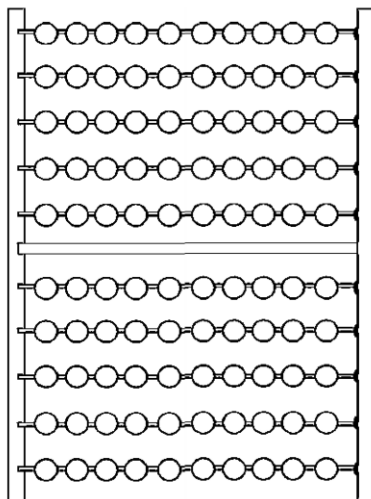
$4 + 2 + 3 = \dots\dots\dots$

$5 + 3 + 3 = \dots\dots\dots$

$3 + 2 + 5 = \dots$

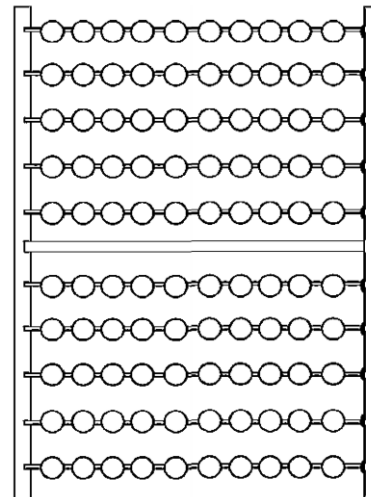
10- Entoure le nombre de perles attendu sur chaque boulier :

35



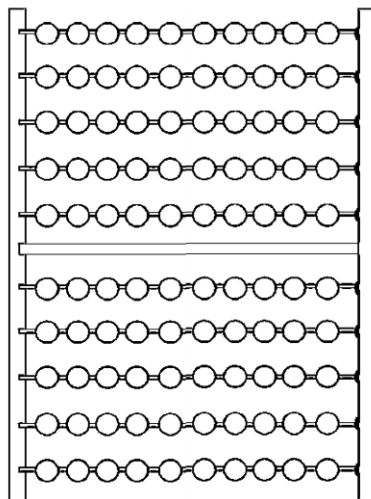
..... =

49



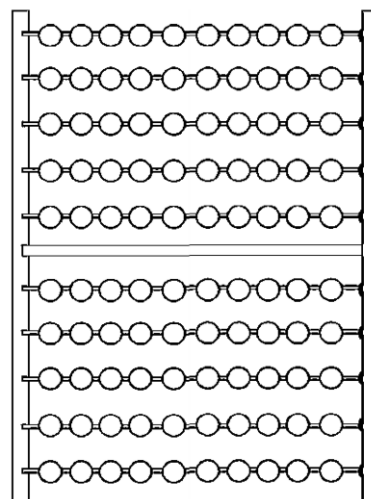
..... =

51



..... =

27



..... =

Logique

Colorie chaque pays de la carte en rouge, en bleu ou en jaune en faisant en sorte de ne jamais colorier deux pays qui se touchent de la même couleur. Les trois premiers pays sont déjà coloriés avec les couleurs indiquées. À toi de continuer.

